

FICHAS DIDÁCTICAS

La ciudad romana de Los Bañales



FUNDACIÓN UNCASTILLO

Los Bañales

SECUNDARIA

FICHA DIDÁCTICA 1

La ciudad romana

1. Lee atentamente el texto sobre el espacio geográfico donde se asienta los Bañales y responde a las siguientes cuestiones.

“El espacio que popularmente conocemos como Los Bañales de Uncastillo fue el solar de una ciudad romana situada en la Comarca de las Cinco Villas de Aragón. Ocupando una superficie de más de 20 ha., la ciudad estaba comunicada con los principales emplazamientos actuales (correspondientes a otras tantas ciudades antiguas) de Ejea de los Caballeros (¿Segia?), el Cabezo Ladrero de Sofuentes o Campo Real / Fillera del Sos del Rey Católico (¿Arsaos?). No se conoce el nombre antiguo de la ciudad que hubo en Los Bañales, presumiblemente se trataba de la Tarraca que Plinio cita en las comunidades del distrito de Caesar Augusta (Zaragoza) y que el geógrafo griego Ptolomeo atribuye al pueblo prerromano de los Vascones”.

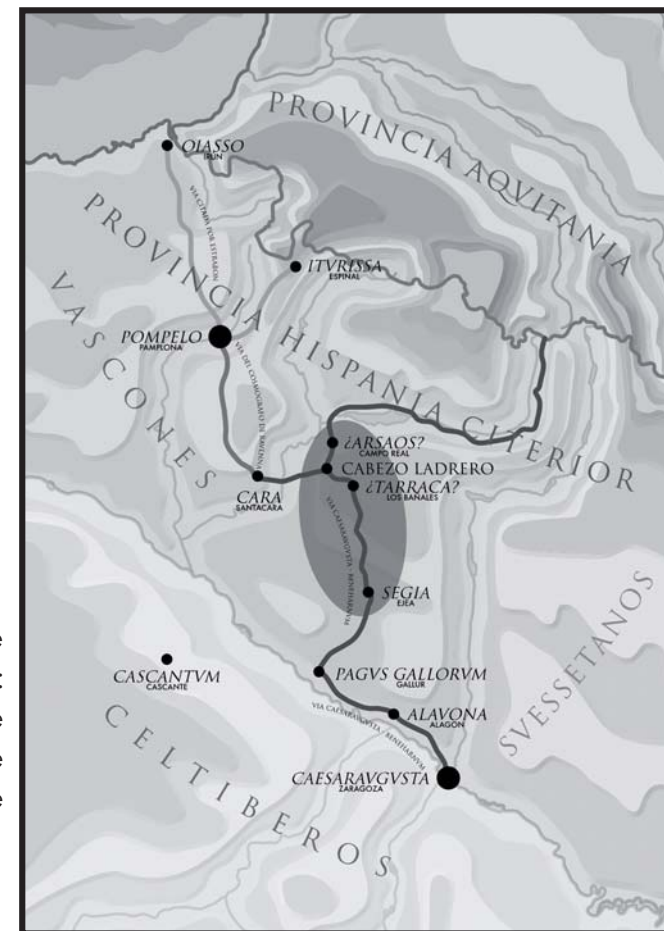
¿Cómo se llamaba la ciudad prerromana de Los Bañales? Localízala en el mapa.

¿A qué provincia romana pertenecía?

¿Con qué posibles emplazamientos romanos se comunicaba?

En la actualidad: ¿a que comarca pertenece?: ¿en que localidad se encuentra?: y ¿en que provincia española se ubica?:

¿Qué te llama la atención sobre la posición de Los Bañales y de las otras ciudades romanas de las Cinco Villas? ¿qué accidentes geográficos rodean la zona? ¿qué importancia crees que éstos tuvieron para el desarrollo de la ciudad romana?



FUNDACIÓN UNCASTILLO


Los Bañales

SECUNDARIA


FICHA DIDÁCTICA 3

La ciudad romana

1. Observa las fotografías y coloca debajo el nombre del lugar que representan y la zona del yacimiento a la que pertenecen (zona pública o zona residencial).




1.



2.



3.



4.



5.



FUNDACIÓN UNCASTILLO

Los Bañales

SECUNDARIA